

KAZANIM DEĞERLENDİRME SINAVI

ADI - SOYADI :
OKULU :
SINIFI :
OKUL NO :

DR. CİHANGİR ÜYGÜN

4 SINIF



TÜRKÇE TESTİ

A

4.Sınıf 1. Deneme

Bu testte toplam 15 soru bulunmaktadır. Her soru için seçeneklerden birini seçerek cevap kağıdına kodlayınız.



Narvallar, deniz gergedanı ya da boynuzlu balina olarak da bilinen memeli bir hayvan türüdür. Genellikle kutup bölgesinde yaşayan bu canlılar yılın tamamını soğuk alanlarda geçirirler. Erkek bireylerinde görülen ve 2-3 metre uzayabilen spiral şeklindeki dişleriyle dikkat çekerler. Bu dişler nadirde olsa dişlerinde de görülebilir. Dişler üzerlerindeki özel yapılar sayesinde narvallar, sudaki sıcaklık değişimlerini algılayabilirler. Bu dişler aynı zamanda kırılmadan yarım metre kadar esneyebilirler.

(1, 2, ve 3.Soruları metne göre cevaplayınız.)

1. Metinden narvallarla ilgili aşağıdaki bilgilerden hangisine ulaşamaz?

- A) Yaygın yaşam alanlarına
- B) Dişlerin hangi cinsiyetteki bireylerde görüldüğüne
- C) En uygun yaşam sıcaklıklarına
- D) Dişlerinin ne işe yaradığına

2. Metne göre narvallar dişlerini hangi amaçla kullanmaktadırlar?

- A) Sudaki canlıları fark etmek için
- B) Sudaki sıcaklık değişimlerini algılamak için
- C) Beslenmek için
- D) Diğer canlılardan korunmak için

3. Metinle ilgili aşağıdakilerden hangisi doğrudur?

- A) Bir canlının hayat hikayesi anlatılmaktadır.
- B) Hayal ürünü ifadeler yer almaktadır.
- C) Bilgi vermek amacıyla yazılmıştır.
- D) Bütün hikaye unsurları açık şekilde bulunabilir.

4.

Koyu	Cömert	Tenha
Dağınık	Ağır	Soğuk

Aşağıdaki cümlelerden hangisinde tablodaki kelimelerden herhangi birinin zıt anlamı kullanılmamıştır?

- A) Dışarı çıkarken odanın kapısını açık bıraktı.
- B) Bugünlerde bana daha sıcak davranıyor.
- C) Genç adan koşarak kalabalıkta kayboldu.
- D) Annem son derece düzenli bir kadındır.

5. Aşağıdaki cümlelerden hangisinde eş anlamlı kelimeler bir arada kullanılmıştır?

- A) Sınavdaki en kolay soruyu zorlanarak çözdüm.
- B) Ağır valizlerin içindeki hafif poşetleri çıkardı.
- C) Çok koştuğu için oldukça yorulmuştu.
- D) Ak sakallı adam beyaz kapıdan dışarı çıktı.



Kaykay kullanırken güvenlik amacıyla kask takıyorum.

Ece

6. Ece'nin cümlesinde aşağıdaki sorulardan hangisinin yanıtı yoktur?

- A) Nerede B) Ne zaman
C) Ne C) Niçin

7.

Dün gece babamın bana aldığı teleskobu kullanarak gökyüzüne baktım. Mars ve Jüpiter gezegenlerini rahatlıkla gözlemledim.

Yukarıdaki cümlede kaç kelime terim anlamı olarak kullanılmıştır?

- A) 1 B) 2 C) 3 D) 4

8. Aşağıdaki cümlelerden hangisinde bir kelime hem gerçek hem de mecaz anlamıyla kullanılmıştır?

- A) Dün bana söylediklerine çok kırıldım.
B) Bu ay harcamalarımızı biraz kısmamız gerekiyor.
C) Kardeşim bisikletten düşünce kolu kırıldı.
D) Sobanın ateşiyle sıcaklaşan evi yüzündeki sıcak gülümsemeye daha da ısıttı.

9.



Ocak ayı yılın ilk ayıdır.

Murat

“Ocak” kelimesi aşağıdaki cümlelerden hangisinde Murat'ın cümlesindekiyle eş sesli olarak kullanılmıştır?

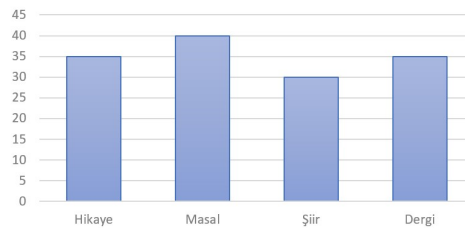
- A) Bu işe 14 Ocak'ta başlamış.
B) Geçen ocaktan beri kar yağmadı.
C) Çayı ocaktan indirip odaya getirdi.
D) Birinci dönem ocak ayında bitiyor.

10. Aşağıdaki cümlelerden hangisinde altı çizili kelimenin hem eş hem de zıt anlamı vardır?

- A) Buralara biraz yabancı kalıyoruz.
B) Her sabah mutlaka spor yaparım.
C) Sazının tellerine bakım yaptı.
D) Bayramda uzaktaki akrabalarımız geldi.

11.

Grafik: Sınıf Kitaplığındaki kitaplar



Grafiğe aşağıdakilerden hangisi söylenebilir?

- A) Sınıfta en fazla masal kitabı okunmaktadır.
B) Sayıları eşit olan kitap türleri vardır.
C) Kitaplıkta toplam 130 kitap vardır.
D) Kitaplıkta en az sayıda olan tür dergidir.

12.





Hasret kaldım çocukluğa,
Ailer, Ayşeler, Güller...
Size diyorum çocuklar;
Ne olur bana ödünç verin
Şu çocukluk günlerini.
Ben de tekerlek koşturup,
Ardından koşayım ben de.

Veli BİLİCİ

Şiirin ana duygusu aşağıdakilerden hangisidir?

- A) Memleket özlemi
- B) Oyun sevgisi
- C) Çocukluk özlemi
- D) Çocuk sevgisi

13. Ailesiyle birlikte televizyon izleyen vedördüncü sınıf öğrencisi olan Mert, ekranda aşağıdaki işaretlerden hangisini gördüğünde programı izlemesi uygun olur?

- A) 
- B) 
- C) 
- D) 

14. Ayşe ile Mustafa bir kelime oyunu oynuyorlar. Oyunun kuralları şöyledir:

- Ayşe 6 harfli ve sesli harfle başlayan bir kelime söylüyor.
- Mustafa Ayşe'nin söylediği kelimenin ilk harfinden sonra gelen harfle başlayan 6 harfli bir kelime söylüyor.
- İki kelimenin de geçtiği bir cümle oluşturuyorlar.





Ayşe'nin "akraba" kelimesini söylediği bilindiğine göre oluşturdukları cümle aşağıdakilerden hangisi olabilir?

- A) Bayramda akrabalarımızı ziyarete gittik.
- B) Babamın akrabaları çok kalabalık.
- C) Akrabalar bizim için önemlidir.
- D) Bursa'daki akrabalarımızı uzun süredir göremiyoruz.

15.

- Eyvah () yemek yandı ()
- Bugün iki ödevim var() matematik ve fen bilimleri
- Saat kaçta geleceğini bilmiyorum ()

Yukarıdaki cümlelerde hangi noktalama işareti kullanılmaz?

- A) 
- B) 
- C) 
- D) 

Türkçe testi bitti, matematik testine geçebilirsiniz.

MATEMATİK TESTİ

A

4.Sınıf 1. Deneme

Bu testte toplam 15 soru bulunmaktadır. Her soru için seçeneklerden birini seçerek cevap kağıdına kodlayınız.

1.

1	Dört basamaklı rakamları farklı en büyük çift sayı	9 Binlik + 8 yüzlük + 7 onluk + 6 birlik
2	Dört basamaklı en küçük tek sayı	1 Binlik + 1 birlik
3	Dört basamaklı rakamları farklı en küçük tek sayı	1 Binlik + 2 yüzlük + 3 onluk + 5 birlik
4	Dört basamaklı en büyük sayı	9 binlik + 9 yüzlük + 9 onluk + 9 birlik

Öğretmen, öğrencilerinden özelliklerini verdiği sayıları çözümlyerek yazmalarını istemiştir. Buna göre yukarıdaki tabloyu hazırlayan bir öğrenci kaçınıcı satırda hata yapmıştır?

- A) 1 B) 2 C) 3 D) 4

2.



- Yüz binler
- On binler
- Binler
- Yüzler
- Onlar
- Birler

Altı

basamaklı doğal sayıları modellemek için abaküs ve boncuklar kullanmak isteyen bir öğrenci 6 tane sarı, 5 tane mavi, 2 tane siyah ve 5 tane de pembe boncuk kullanıyor.

Buna göre bu öğrencinin oluşturduğu sayı ile ilgili aşağıdakilerden hangisi söylenemez?

- A) "Altı yüz beş bin iki yüz beş" şeklinde okunur.
 B) Basamaklarından iki tanesinde sıfır vardır.
 C) Sayı değerleri toplamı 605205'tir.
 D) 6 Yüz binlik + 5 binlik + 2 yüzlük + 5 birlik şeklinde çözümlenir.

3.



504 785



540186



514980



499909

Yukarıda bazı arabaların satış fiyatları verilmiştir. Buna göre arabaların fiyatlarının pahalıdan ucuza doğru sıralanışı hangi seçenekte doğru olarak verilmiştir?

- A)
- B)
- C)
- D)

4.



Okul numaram dört basamaklı ve sayı değerleri toplamı 21.

Yüzler basamağı ile birler basamağının sayı değerleri arasında 2 fark var.

Numaramda en büyük ve en küçük rakamlar da var.

Buna göre Keloğlan'ın okul numarası kaçtır?

- A) 9507 B) 9517
 C) 9917 D) 9970

5.



Öğretmenin sorduğu sayılar sırasıyla hangi seçenekte doğru olarak verilmiştir?

- | | | |
|----|-----|------|
| | ★ | ★ |
| A) | 855 | 3951 |
| B) | 864 | 4049 |
| C) | 854 | 3959 |
| D) | 864 | 3950 |

6.



96'dan başlayarak yüzer ritmik sayarken 6.sırada söylediğim sayı

73'ten başlayarak biner ritmik sayarken 7.sırada söylediğim sayı



Buna göre Cankız ve Bilgecan dedenin söylediği sayıların toplamı aşağıdakilerden hangisidir?

- | | |
|---------|---------|
| A) 7769 | B) 7669 |
| C) 6669 | D) 6569 |

7. 761 209 doğal sayısının yüz binler basamağı 3 azaltılır, yüzler basamağı 5 arttırılırsa sayının değeri nasıl değişir?

- | | |
|------------------|-------------------|
| A) 299 500 artar | B) 299 500 azalır |
| C) 295 000 artar | D) 295 000 azalır |

8.

Birler Bölüğü	Binler Bölüğü
9	905
305	67
92	3
102	271

Verilen binler ve birler bölüklerindeki sayılar kullanılarak aşağıdaki sayılardan hangisi oluşturulamaz?

- | | |
|------------|------------|
| A) 271 009 | B) 67 102 |
| C) 3 092 | D) 305 905 |

9.

- 1.Adım => $500 + 300 = 800$
 2.Adım => $40 + 20 = 60$
 3.Adım => $3 + 1 = 4$

Eren bir toplama işlemini yukarıdaki gibi üç adımda zihinden yapıyor. Buna göre Eren'in zihinden yaptığı toplama işlemi hangisidir?

- | | |
|----------------|----------------|
| A) $551 + 324$ | B) $344 + 523$ |
| C) $543 + 321$ | D) $541 + 321$ |

10. Mustafa Bey Bir buzdolabı ve bir televizyon alacaktır. Alacağı televizyonun fiyatı 2781 TL, buzdolabının fiyatı ise 4356 TL'dir. Mustafa Bey'in ödeyeceği toplam tutarı sayıları en yakın yüzlüğe yuvarlayarak tahmin eden iş yeri çalışanını aşağıdaki sayılardan hangisini söylemesi beklenir?

- A) 7200 B) 7140
C) 7137 D) 7000

11. İstanbul - Adıyaman arası mesafe 1156 km'dir. Tatil için İstanbul'a giden bir aile dönüş için yola çıktıktan 648 km sonra araçları arıza yapmıştır. Buna göre ailenin aldığı toplam yol ve kalan yol hangi seçenekte doğru olarak verilmiştir?

	<u>Alınan yol</u>	<u>Kalan Yol</u>
A)	2312	508
B)	1804	508
C)	1804	648
D)	2312	648

12. Dört basamaklı sayılarla yapılan bir çıkarma işleminde eksilenin yüzler basamağı 3 arttırılır, çıkanın binler basamağı 2 azaltılırsa fark nasıl değişir?

- A) 2300 azalır B) 3200 artar
C) 2300 artar D) 3200 azalır

Hasan ile Hüseyin bir sayı oyunu oynuyorlar. Oyun için üzerinde birden altıya kadar rakamların yazılı olduğu iki tane zar kullanıyorlar. Oyunun kuralları şu şekildedir:

- Zarı önce Hasan üç kere atar, her seferinde gelen rakamları ayrı ayrı kağıtlara yazar.
- Sonra Hüseyin zarı üç kere atar ve o da sayıları ayrı ayrı kağıtlara yazar.
- Hasan'ın rakamları binler bölüğü, Hüseyin'in rakamları birler bölüğü olacak şekilde altı basamaklı sayılar oluştururlar.

(13 ve 14. soruları yukarıdaki bilgilere göre cevaplayınız.)

13. Aşağıdaki sayılardan hangisi bu oyunun sonunda oluşturulabilecek sayılardan biri olamaz?

- A) 435 216 B) 203 145
C) 341 214 D) 616 551

14. Hasan'ın sırasıyla 3, 5 ve 1 sayılarını attığı bir oyunda aşağıdaki sayılardan hangisi kesinlikle oluşturulamaz?

- A) 412 351 B) 153 245
C) 351 351 D) 135 141

15.

→ 16 - 25 - 34 - - 52

→ 84 - 76 - 68 - - 52

→ 165 - 159 - 153 - - 141

Örüntülerde verilmeyen sayıların toplamı kaçtır?

- A) 250 B) 245
C) 236 D) 225

Matematik testi bitti, Fen Bilimlerine geçebilirsiniz.

Bu testte toplam 12 soru bulunmaktadır. Her soru için seçeneklerden birini seçerek cevap kağıdına kodlayınız.

1.



Fen bilimleri dersinde okul bahçesine çıkan öğrencilere yerdeki çakıl taşlarını gösteren öğretmen, taşların farklı farklı renklerde

olmasının nedenini soruyor.

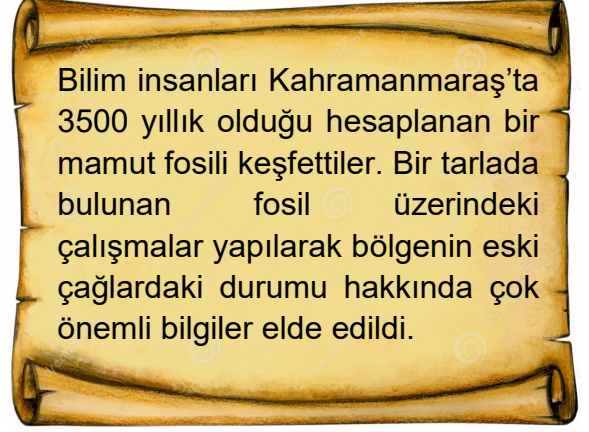
Buna göre hangi öğrencinin verdiği cevap doğrudur?

- A)  Farklı yerlerden getirilmiş olmaları
- B)  Yağmur ya da rüzgarın etkisiyle değişmeleri
- C)  İçerdikleri minerallerin farklı olması
- D)  Kayaçlardan oluşmuş olmaları

2. Kayaçlarla ilgili aşağıdaki bilgilerden hangisi yanlıştır?

- A) Yerkabuğunu oluşturan ana yapılarıdır.
- B) İçerlerinde farklı türde mineraller olabilir.
- C) Bazıları ekonomik olarak değerlidir.
- D) Tüm kayaçlar hammadde olarak kullanılırlar.

3.



Bilim insanları Kahramanmaraş'ta 3500 yıllık olduğu hesaplanan bir mamut fosili keşfettiler. Bir tarlada bulunan fosil üzerindeki çalışmalar yapılarak bölgenin eski çağlardaki durumu hakkında çok önemli bilgiler elde edildi.

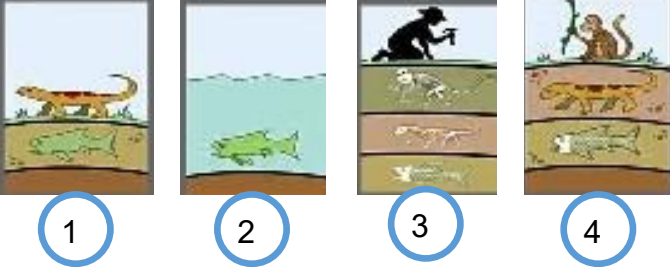
Verilen gazete haberinden yola çıkılarak fosillerle ilgili aşağıdaki yorumlardan hangisi kesinlikle yapılabilir?

- A) Fosiller ait oldukları döneme ait bilgiler verebilirler.
- B) Fosiller toprakta, buzullarda ve ağaç reçinelerinde bulunabilir.
- C) Yerkabuğunun daha alt katmanlarında bulunan fosiller daha yaşlıdır.
- D) Fosiller paleontologlar tarafından incelenir.

4. Aşağıdaki maden - kullanım alanı eşleştirmelerinden hangisi yanlıştır?

- A) Altın: Süs eşyası, elektronik araçlar.
- B) Bakır: Mutfak eşyası, kablo
- C) Demir: İnşaat sanayi, elektrik kablosu
- D) Bor: Havacılık ve uzay sanayi

5.



Fosil oluşumunun aşamalarını gösteren görseller doğru sıralandığında sıralama nasıl olur?

- A) 1 - 2 - 3 - 4 B) 2 - 1 - 4 - 3
C) 2 - 4 - 1 - 3 D) 2 - 1 - 3 - 4

6.

	Günlük Hareket	Yıllık Hareket
1	24 saat sürer	365 gün 6 saat
2	Dolanma hareketi-	Dönme hareketidir
3	Gece-gündüz oluşur	Mevsimler oluşur
4	Güneş etrafındadır	Kendi etrafındadır

Dünya'nın hareketleri ile ilgili oluşturulan tabloda doğru bilgilerin bulunduğu satır numaraları hangi seçenekte verilmiştir?

- A) 1 ve 2 B) 2 ve 4
C) 1 ve 3 D) 3 ve 4

7.



Sabah okula giderken güneş denizin hemen üzerindeydi. Öğlen okuldan dönerken ise tam tepedeydi. Oyunum bitip eve dönerken ise karşıki tepelerin arkasına doğru gitmişti.

Konuşmada bahsedilen durumun nedeni aşağıdakilerden hangisidir?

- A) Yıllık hareket B) Günlük hareket
C) Dünya'nın şekli D) Güneş'in hareketi

8. Okul bahçesinde koşarken düşüp dizinden yaralanan Zeynep'in iyileşmesi için aşağıdaki besinlerden hangisine daha çok ihtiyacı vardır?

- A) Et, süt ve yumurta
B) Meyve, sebze, tatlı
C) Tahıl, tereyağı, bal
D) Su, meyve, tereyağı

9. Her gün mutlaka cips ve kola tüketen Ahmet, bir süre sonra hızlı şekilde kilo aldığını ve hareketlerinin yavaşladığını fark ediyor. Bu durumuyla ilgili:

- Obezite hastalığı başlamış olabilir.
- Beslenme düzenini değiştirmelidir.
- Yaşadığı geçici bir sorundur, spor yaparak düzeltebilir.
- Bol miktarda protein tüketerek bu durumu tersine çevirebilir.

Yorumlarından kaç tanesi yapılabilir?

- A) 4 B) 3 C) 2 D) 1

10.

- Özellikle akciğerlere zarar verir.
- Çok sayıda zehirli madde içerir.
- Kullanmayan kişileri de etkileyebilir.

Yukarıda bazı zararları verilen madde hangi seçenekte doğru olarak verilmiştir?

- A) Alkol B) Sigara
C) Uyuşturucu D) Kenevir

11.




Sağ taraftaki kutulara sol taraftaki gıdaların içerdiği besin türleri yazılacaktır.

Buna göre aşağıdakilerden hangisi herhangi bir kutu içerisine yazılamaz?

- A) Karbonhidrat B) Vitamin
C) Protein D) Yağ

12.



Sağlıklı beslenme tablosu hazırlayan bir öğrenci yukarıda görselleri verilen gıdalardan kaç tanesini öğünlerinden herhangi birine yazmamalıdır?

- A) 2 B) 3 C) 4 D) 5

Fen Bilimleri testi bitti, sosyal Bilgiler testine geçebilirsiniz.

SOSYAL BİLGİLER TESTİ

A

4.Sınıf 1. Deneme

Bu testte toplam 12 soru bulunmaktadır. Her soru için seçeneklerden birini seçerek cevap kağıdına kodlayınız.

1.



Görseli verilen T.C. Kimlik Kartı üzerindeki bilgilerden yola çıkılarak bir kişi hakkında aşağıdaki bilgilerden hangisine ulaşamaz?

- A) Kaç yaşında olduğuna
- B) Hangi ülke vatandaşı olduğuna
- C) Kan grubuna
- D) Cinsiyetine

2.



Bir suçluyu yakalayabilmek için bazı ipuçlarını değerlendiririz. Eğer suçluya ait elimizdeyse işimiz kolaylaşır.

Buna göre polisin cümlesindeki boşluğa getirilmesi en uygun olan ifade aşağıdakilerden hangisidir?

- A) Göz rengi
- B) Boyu ve kilosu
- C) Parmak izi
- D) Saç şekli ve rengi

3.



- 1. 2011 bir yılında doğdum.
- 2. Dördüncü sınıfa başladım.
- 3. Yürümeye başladım.
- 4. Birinci sınıfa başladım.
- 5. Ana okulunu bitirdim.

Emre

Emre'nin verdiği bilgilerinin oluş sırasına göre (kronolojik) sıralanışı hangi seçenekte doğru olarak verilmiştir?

- A) 1 - 3 - 5 - 4 - 2
- B) 1 - 3 - 4 - 5 - 2
- C) 2 - 4 - 5 - 3 - 1
- D) 1 - 4 - 5 - 3 - 2

4.




Dedem ile aile tarihimizle ilgili bir görüşme yapmak istiyorum.

- I. Ailemizin soy ismi nereden geliyor?
- II. Ailemiz her zaman burada mı yaşıyordu?
- III. Gençliğinde neler yapardın?
- IV. Babamın çocukluğuna ait fotoğraflar var mı?

Buna göre can bu görüşmede yukarıdaki sorulardan hangilerini dedesine sormalıdır?

- A) I ve II
- B) II ve IV
- C) I, II ve IV
- D) II, III ve IV

5.



Ben kitap okumayı çok seviyorum, kardeşim çizgi film izlemeyi seviyor, abim ise spor yapmayı seviyor.

Ezgi'nin sözleriyle vurgulamak istediği kavram aşağıdakilerden hangisidir?

- A) Fiziksel farklılıklar
- B) İstekler ve ihtiyaçlar
- C) Bireysel farklılıklar
- D) Aile içi anlaşmazlıklar

6. Aşağıda görsellerden hangisi bizim milli kültürümüze ait olmayan bir ögeyi göstermektedir?




Kına Gecesi



Kıyafetlerimiz



Yemeklerimiz



Futbol

7. Milli kültür öğelerimizle ilgili aşağıda verilen bilgilerden hangisi yanlıştır?

- A) Yörelerimiz arasında farklılıklar gösterebilir.
- B) Bizi diğer kültürlerden üstün kılar.
- C) Toplumsal bütünlüğümüzü sağlayarak bizi birbirimize bağlar.
- D) Nesilden nesile aktarılır.

8. Aşağıdakilerden hangisi geleneksel çocuk oyunlarımızdan değildir?

A)



B)



C)



D)



9.

Yaşadığım şehir Fransızlar tarafından işgal edildi. Bir gün Fransızlar ve onlara yardım eden Ermeniler dükkanımın yakınındaki hamamdan çıkan kadınların örtülerini çıkarmaya çalıştılar. Ben de onlara ateş ederek engelledim. Böylece şehirimde Milli Mücadelenin ilk kurşununu attım.

Konuşmada kendini tanıtan Milli Mücadele kahramanımız ve memleketi hangi seçenekte doğru olarak verilmiştir?

- A) Sütçü İmam - Maraş
- B) Şahin Bey - Antep
- C) Ali Saip Bey - Urfa
- D) Yörük Ali Efe - Aydın

10.



“Görev yaptığım Doğu Cephesinde Ermenileri yenilgiye uğrattım. Daha sonra da onların Gümrü Antlaşmasını imzalanmasını sağladım. Doğu cephesinde savaş bitince silah ve malzemeleri batıya göndererek batı cephesine destek oldum.”

Kazım Karabekir Paşa'nın açıklamalarıyla ilgili aşağıdaki yorumlardan hangisi yapılamaz?

- A) Kendi cephesinde savaşı kazanmıştır.
- B) Savaş sonunda bir antlaşma imzalamıştır.
- C) Atatürk ile birlikte Samsun'a gitmiştir.
- D) Batı cephesine yardımda bulunmuştur.

11.



Sosyal Bilgiler dersinde yukarıdaki görseli sınıfa getiren öğretmen, öğrencilerinde görsele bakarak Kurtuluş Savaşı ile ilgili yorumlar yapmalarını istiyor.

Buna göre sadece görsele bakarak aşağıdaki yorumlardan hangisi yapılamaz?

- A) Kurtuluş Savaşı'nda halkımız zor şartlarda mücadele etmiştir.
- B) Kadınlarımız da savaşta kahramanlıklar göstermiştir.
- C) Kurtuluş Savaşı tüm halkımızın ortak mücadelesidir.
- D) Düşmanların gelişmiş silahlarına karşın halkımız kısıtlı imkanlarla savaşmıştır.

12.

Olay/Tarih		Sonuç
1	Mondros Ateşkes Antlaşması	Kurtuluş Savaşı'nın bitişi
2	Mudanya Ateşkes Antlaşması	1.Dünya Savaşı'nın bitişi
3	Atatürk'ün Samsun'a çıkışı	Kurtuluş Savaşı'nın başlangıcı
4	23 Nisan 1920	TBMM'nin açılışı

Olaylarla sonuçlarının eşleştirmesinde hangi iki sonuç yer değiştirirse tablo doğru olur?

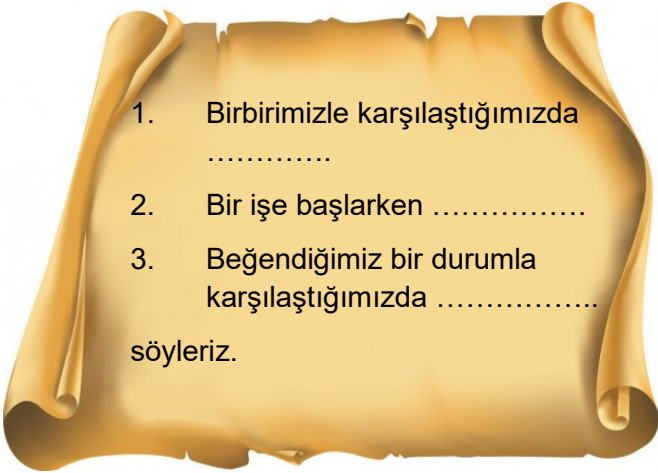
- A) 1 ve 2
- B) 2 ve 3
- C) 2 ve 4
- D) 3 ve 4

Bu testte toplam 8 soru bulunmaktadır. Her soru için seçeneklerden birini seçerek cevap kağıdına kodlayınız.

1. Aşağıdakilerden hangisi günlük hayatta kullandığımız dini ifadelerden biri değildir?

- A) Besmele B) Günaydın
C) Maşallah D) İnşallah

2.



Boşluklara gelmesi gereken dini ifadeler hangi seçenekte sırasıyla doğru olarak verilmiştir?

- A) Günaydın - Besmele - Maşallah
B) Selamün aleyküm - Besmele - Maşallah
C) Selamün aleyküm - Elhamdülillah - Maşallah
D) Hayırlı günler - Besmele - İnşallah

3. Allah-ü Teala'nın yapılmasını yasakladığı davranışlar ve kavramlar için kullanılan terim aşağıdakilerden hangisidir?

- A) Haram B) Helal
C) Salavat D) Kötülük

4. Hasta olan arkadaşına ziyarete giden Yusuf, arkadaşına geçmiş olsun, tez zamanda iyileşirsin demiştir. Arkadaşı da ona diyerek teşekkür etmiştir.

Metindeki boşluklar günlük hayatta kullandığımız dini ifadeler kullanılarak doldurulduğunda aşağıdaki ifadelerden hangisi kullanılmaz?

- A) İnşallah B) Allah şifa versin
C) Teşekkür ederim D) Allah razı olsun

Hz. Muhammed (s.a.v.) bir gün altı arkadaşı ile birlikte yemek yiyordu. Bu esnada dışardan bir kişi gelip yemeğe oturdu. Yemeği iki lokmada hemen bitirdi. Bunun üzerine Hz. Peygamber şöyle dedi: "Şayet o besmele çekseydi, yemek hepimize yeterdi." (Tirmizî, Et'ime, 47.)

5.

Metinde aşağıdakilerden hangisinin önemine vurgu yapılmıştır?

- A) Paylaşma B) Besmele

6.

Allah'ü Ekber, Allah en büyüktür anlamına gelir.	
Peygamber efendimiz (s.a.v.) için okunan, ona Allah'ın (c.c.) rahmet ve selamını isteyen dua Sübhaneke duasıdır.	
Allah'ın bize verdiği nimetler için	
Allah'ın (c.c.) güzel davranışlar ve işler için vereceği mükafata sevap denir.	

Tabloda doğru olan ifadelerin karşısına D, yanlış olanların karşısına Y yazıldığında tablo nasıl görünür?

- A)

D
Y
Y
D

 B)

Y
D
Y
D

 C)

D
Y
D
D

 D)

Y
Y
D
D

7. Aşağıdakilerden hangisi İslam dininin inanç esaslarından biri değildir?

- A) Allah'a inanmak
B) Ahiret gününe inanmak
C) Kelime-i şahadet getirmek
D) Peygamberlere inanmak

8.

- 1 Ve bi hamdik
2 Ve tebara kesmük
3 Ve teala ceddük
4 Sübhaneke Allahümme
5 Ve celle senaük
6 Ve la ilâhe ğayruk

Karışık olarak verilen Sübhâneke duası doğru şekilde sıralandığında sıralama aşağıdakilerden hangisi gibi olur?

- A) 4 - 3 - 1 - 5 - 2 - 6
B) 4 - 1 - 3 - 2 - 5 - 6
C) 4 - 1 - 5 - 2 - 3 - 6
D) 4 - 1 - 2 - 3 - 5 - 6

Din Kültürü testi bitti, İngilizce testine geçebilirsiniz.


İNGİLİZCE TESTİ

A

4.Sınıf 1. Deneme

Bu testte toplam 8 soru bulunmaktadır. Her soru için seçeneklerden birini seçerek cevap kağıdına kodlayınız.

1.



Görsellerin altındaki kutulara sırasıyla gelmesi gereken ifadeler hangi seçenekte doğru olarak verilmiştir?

- A) Close the door - open your book - be quiet
- B) Be quiet - open your book - close the door
- C) Be quiet - close the door - open your book
- D) Open your book - close the door - be quiet

2.

- May i open the window please?
- Sorry, _____

Diyaloğu tamamlayan ifade hangi seçenekte doğru olarak verilmiştir?

- A) of course
- B) Not right know
- C) thanks
- D) sure


3.



? ile gösterilen kutulara gelmesi gereken sayılar hangi seçenekte doğru şekilde verilmiştir?

- A) Twenty two - twenty five
- B) Twenty three - twenty six
- C) Twenty three - twenty four
- D) Twenty two - twenty four

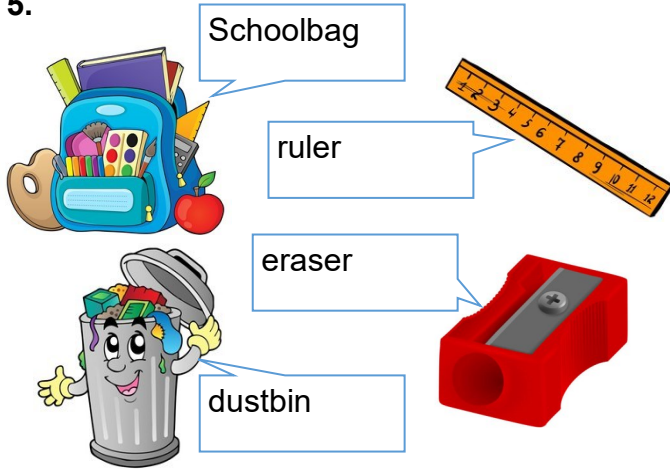
4.





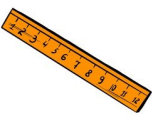

Diyaloğu tamamlayan ifade aşağıdakilerden hangisidir?

- A) I am from Turkey.
- B) I am from Turkish.
- C) Fine, thanks.
- D) I from Turkey.


5.



Görsellerden hangisinin ismi yanlış verilmiştir?

- A)  B) 
- C)  D) 

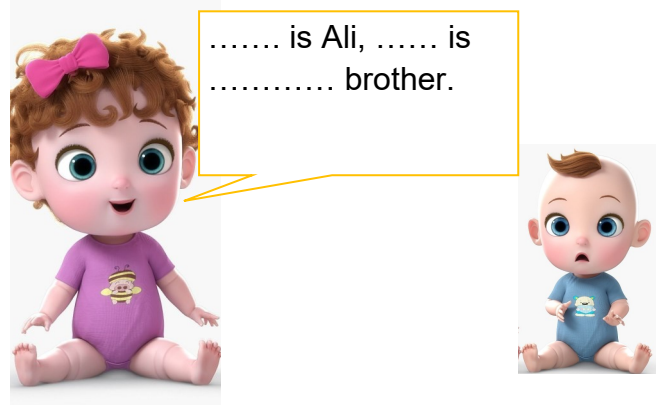
6.



Boşluklara gelmesi gereken ifadeler hangi seçenekte verilmiştir?

- A) can / can B) can't / can
- C) can / can't D) can't / can't

7.



Boşluklara gelmesi gereken ifadeler hangi seçenekte doğru verilmiştir?

- A) She / He / his
- B) He / He / my
- C) He / She / my
- D) She / She / my

8.



Haritaya göre aşağıdakilerden hangisi yanlıştır?

- A) Gaziantep is in the south.
- B) Van is the in the east.
- C) İzmir is in the north.
- D) Ordu is in the north.

İngilizce testi bitti.