

Ekim Ayı

KAZANIM DEĞERLENDİRME SINAVI

ADI - SOYADI :
OKULU :
SINIFI :
OKUL NO :

DR. CİHANGİR ÜYGÜN


3. SINIF





TÜRKÇE TESTİ

Bu testte 15 soru bulunmaktadır. Her sorunun yalnızca bir doğru cevabı vardır. Cevaplarınızı cevap kağıdına kodlamayı unutmayın.



Günlerde bir gün Nasrettin Hoca pazara giderken çocuklar etrafını sarmışlar. Hepsi birer düdük ısmarlamış ama para veren olmamış.

Hoca çocukların tümüne olumlu cevap vermiş:

– Peki, olur demiş...

Çocuklardan yalnız biri, elinde para olduğu halde, Hoca'ya şunları söylemiş:

– Şu parayla bana bir düdük getirir misin ?

Hoca akşama doğru pazardan dönmüş. Yolunu bekleyen çocuklar hemen Nasrettin Hoca'nın etrafını sararak düdüklerini istemişler.

Nasrettin Hoca, cebinden bir düdük çıkarıp kendisine para veren çocuğa uzatmış.

Ötekileri bağırmaya başlamışlar:

– Ya bizim düdükler nerede

Nasrettin Hoca'nın cevabı kısa ve anlamlı olmuş:

– Parayı veren düdüğü çalar.

(1,2,3 ve 4. Soruları metne göre cevaplayınız.)

1. Metne göre çocuklar neden Hoca'nın etrafını sarmışlar?

- A) Hoca'nın eşeğine binmek için
- B) Hoca'dan para istemek için
- C) Hoca'ya bir şeyler sipariş vermek için
- D) Hoca ile konuşmak için

2. Çocuklar Hoca'dan ne istemişler?



B)



D)



3. Metinde altı çizili cümlede aşağıdaki sorulardan hangisinin cevabı yoktur?

- A) Nasıl
- B) Kim
- C) Ne zaman
- D) Nereden

4. Metinde asıl anlatılmak istenen şey aşağıdakilerden hangisidir?

- A) Bir şeyler elde etmek istiyorsak bedelini ödemeliyiz.
- B) Hoca'dan bir şey istememeliyiz.
- C) Düdük pahalı bir oyuncaktır.
- D) Hoca paylaşmayı sevmeyen biridir.

TÜRKÇE TESTİ

5.



Dün akşam bir saat kadar yağmur yağdı. Sabah ise hava açıldı.

Ender

Ender'in konuşmasıyla ilgili hangisi söylenebilir?

- A) Eş anlamlı kelimeler bir arada kullanılmıştır.
- B) Zıt anlamlı kelimeler bir arada kullanılmıştır.
- C) Birden fazla eş sesli kelime vardır.
- D) Yarın kelimenin zıt anlamlısı kullanılmıştır.

6. Aşağıdaki cümlelerden hangisinin sonuna farklı bir noktalama işareti konulmalıdır?

- A) Adamın karşısında konuşamıyordum
- B) Bugünlerde biraz duygusalım
- C) Bu yemeğin nasıl yapıldığını bilmiyorum
- D) Çocuklar, lütfen dikkatinizi verin

7. Aşağıdaki varlıkların isimleri sözlük sırasına dizildiğinde hangisi üçüncü sırada yer alır?




B)



C)



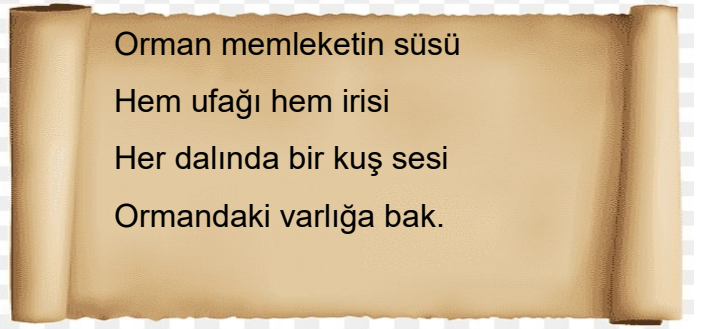
D)



8. Aşağıdakilerden hangisi bir cümle değildir?

- A) Şimdi sahile gitmek, gezmek, denize girmek ...
- B) Korkuyormuş köpeklerden kardeşi.
- C) Biliyorum, sen de çalışıyorsun.
- D) Annen daha gelmedi mi?

10. Türkçe derslerinde şiir okumayı seven Zeynep, sınıfta aşağıdaki şiiri okuyor.





Buna göre Zeynep'le ilgili aşağıdakilerden hangisi söylenemez?

- A) Doğa sevgisi olan bir öğrencidir.
- B) Kuşları beslemeyi sevmektedir.
- C) Ormanların ülkemiz için önemini anlamıştır.
- D) Şiir okumayı seven bir öğrencidir.

11.

Deyimlerle görseller eşleştirildiğinde hangi deyim açıkta kalır?



- A) Gözden düşmek
- B) Eli ayağına dolaşmak
- C) Göz boyamak
- D) Göze girmek

TÜRKÇE TESTİ

12.

- I. erkenden
- II. bilmiyordum
- III. babamın
- IV. gideceğini

Verilen kelimelerle anlamlı ve kurallı bir cümle oluşturulduğunda doğru sıralama nasıl olur?

- A) II - III - I - IV
- B) III - I - IV - II
- C) III - IV - I - II
- D) II - I - IV - III

13.

C B M İ L

Ahmet yukarıdaki harflerden bir önce gelen harfleri kullanarak bir kelime oluşturuyor.

Buna göre Ahmet'in oluşturduğu kelime ile ilgili hangisi söylenemez?

- A) İki heceli bir kelimedir.
- B) Ünlü harflerinin tamamı kalındır.
- C) Bir canlı türünün ismidir.
- D) Alfabenin ilk ve son harflerini içerir.

14.

Kelime	Eş anlamlısı	Zıt Anlamlısı
Yaşlı	1	
Uzak		2
Kara		3
Ucuz	4	

Yukarıdaki tablo doldurulduğunda kaç numaralı kutuya yazılan kelime eş sesli (sesteş) bir kelime olur?

- A) 1
- B) 2
- C) 3
- D) 4

15.



Merhaba çocuklar!

Benim adım karagöz.

Bundan yüzlerce yıl önce Bursada yaşadım. Arkadaşım Hacıvat'la beraber insanları hem güldürür hem de onlara öğütler veririz.

Karagöz'ün konuşmasında;

- I. Büyük harflerin kullanımı
- II. Özel isimlerin yazımı
- III. Satır sonuna sığmayan kelimelerin yazımı

Konularından hangilerinde hata yapılmıştır?

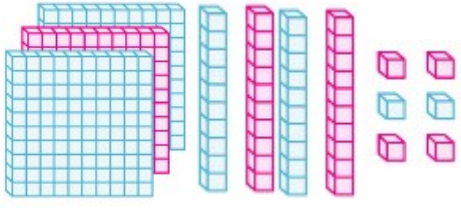
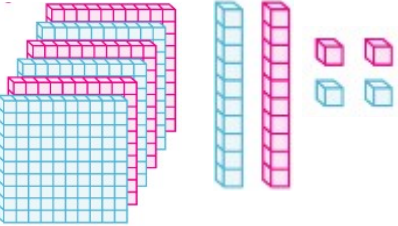
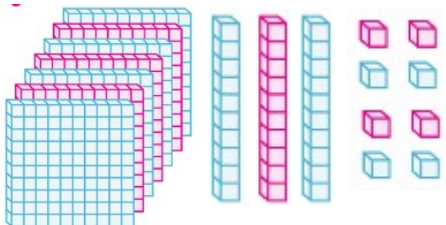
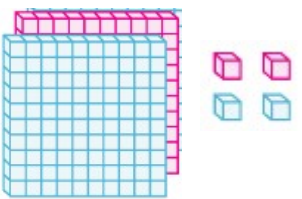
- A) Yalnız I
- B) Yalnız II
- C) I ve II
- D) II ve III

Türkçe testi bitti, matematik testine geçebilirsiniz.

MATEMATİK TESTİ

Bu testte 15 soru bulunmaktadır. Her sorunun yalnızca bir doğru cevabı vardır. Cevaplarınızı cevap kağıdına kodlamayı unutmayın.

1. Aşağıda taban bloklarıyla gösterilen sayılardan hangisinin okunuşu yanlış verilmiştir?

- A)  346
- B)  624
- C)  738
- D)  224

2.

6 yüzlük 3 onluk 7 birlik

5 onluk 3 yüzlük 2 birlik

9 yüzlük 1 onluk

5 birlik 4 onluk 8 yüzlük

Hangi sayının çözümlenmiş şekli yukarıda verilmemiştir?

- A) 637 B) 352 C) 910 D) 548

3. 125'ten başlayarak onar ritmik sayma yapan bir öğrenci altıncı saymada hangi sayıyı söyler?

- A) 155 B) 165 C) 175 D) 185

4.



İleri doğru sekizer ritmik sayarken beşinci saymada 64 sayısını söyledim.

Buna göre Keloğlan saymaya hangi sayıdan başlamıştır?

- A) 32 B) 24 C) 16 D) 8

5. Aşağıdaki sayı örüntülerinden hangisinin kuralı diğerlerinden farklıdır?

- A) 24 - 33 - 42 - 51 - 60 - 69
B) 11 - 20 - 29 - 38 - 47 - 56
C) 9 - 19 - 29 - 39 - 49 - 59
D) 35 - 44 - 53 - 62 - 71 - 80

6. Basamak Değeri Sayı Değeri

7 6 2		
└─┬─┬─┘	2	2
└─┬─┘	60	6
└─┘

Verilenlere göre boş bırakılan yerlere sırasıyla hangi sayılar gelmelidir?

- A) 700 - 700 B) 700 - 7
C) 7 - 700 D) 7 - 7

MATEMATİK TESTİ

7.



Ayşe

En yakın onluğa yuvarlandığında 240 olan en büyük sayı

En yakın onluğa yuvarlandığında 650 olan en küçük sayı



Emir

Verilenlere göre Ayşe ile Emir'in söylediği sayılar hangi seçenekte doğru verilmiştir?

	Ayşe	Emir
A)	244	644
B)	244	645
C)	254	644
D)	254	654

8.

324

797

445

565

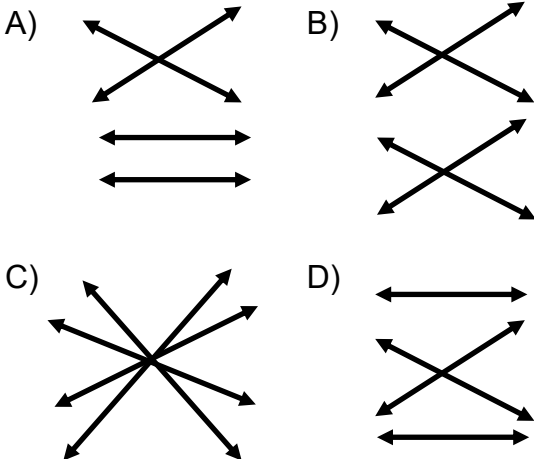
800

300

600

400

Sayılarla en yakın oldukları yüzlükler oklarla eşleştirildiğinde görüntü hangisi gibi olur?



9.



185



205



380



260

Arabaların yapabildikleri en yüksek hızlar verilmiştir.

Buna göre arabaların en hızlıdan en yavaşına doğru sıralanışı hangi seçenekte doğru olarak verilmiştir?



5

4

9

10.

1	Üç basamaklı en büyük tek sayı	
2	Üç basamaklı en küçük çift	
3	Üç basamaklı en küçük tek	
4	Üç basamaklı en büyük çift	

Tabloyu kutularda verilen sayıları kullanarak doldurduğumuzda yazdığımız sayıların küçükten büyüğe doğru sıralanışı hangi seçenekte doğru verilmiştir?

- A) $1 < 2 < 3 < 4$ B) $4 < 1 < 2 < 3$
 C) $2 < 1 < 3 < 4$ D) $3 < 2 < 1 < 4$

MATEMATİK TESTİ

11.

A) En yakın yüzlüğü 300 olan en büyük sayı

B) En yakın yüzlüğü 200 olan en küçük sayı

Verilenlere göre $A+B$ işleminin sonucu kaçtır?

A) 599 B) 499 C) 399 D) 299

12.

En büyük çift rakam

En küçük çift rakam

En küçük tek rakam

Kutularda özellikleri verilen rakamlar birer kere kullanılarak oluşturulabilecek en büyük ve en küçük üç basamaklı sayıların farkı kaçtır?

A) 899 B) 802 C) 702 D) 599

13. Bir kumaşçı elindeki 296 metre kumaşın 187 metresini satıyor. Kalan kumaşların 95 metresini ise kullanıyor. Terzinin elinde kaç metre kumaş kalmıştır?

A) 14 B) 78 C) 96 D) 388

YÜZLÜK

ONLUK

BİRLİK

0

1

2

3

4

5

6

7

8

9

Yukarıdaki kartlar kullanılarak bir sayı oyunu oynanıyor. Oyunun kuralları şu şekildedir:

- Önce rakam kartlarından bir kart seçilir.
- Sonra basamak kartlarından biri seçilir.
- Bu işlem üç kere tekrar edilir.
- Seçilen kartlara uygun şekilde üç basamaklı bir sayı oluşturulur.
- Oluşturulan sayının basamak değerleri toplamı ile sayı değerleri toplamının farkı bulunur.

(14 ve 15. soruları yukarıda verilen bilgilere göre çözünüz.)

14. Sırasıyla 5, 7, 1 rakamlarını ve yine sırasıyla onluk, yüzlük ve birlik kartlarının seçildiği bir oyunda, oyunun sonunda yapılan işlemin sonucu kaçtır?

A) 751 B) 738 C) 702 D) 558

15. Oyun sonunda yapılan işlemde çıkan sayı 17 olduğuna göre, oluşturulan sayı aşağıdakilerden hangisi olamaz?

A) 764 B) 908 C) 593 D) 873

Matematik testi bitti. Fen bilimleri testine geçebilirsiniz.

FEN BİLİMLERİ TESTİ

Bu testte 12 soru bulunmaktadır. Her sorunun yalnızca bir doğru cevabı vardır. Cevaplarınızı cevap kağıdına kodlamayı unutmayın.

1. Dünyanın şekli ile ilgili bazı görüşler aşağıda verilmiştir?



Ben Macellan. Gemi ile bir noktadan hareket ederek sürekli batıya gidersem başladığım noktaya döneceğimi böylece Dünya'nın yuvarlak olduğunu ispatlayacağımı düşündüm.

Ben Pisagor yaklaşık iki bin beş yüz yıl önce yaşadım. Yaptığım gözlemlere ve matematiksel hesaplara dayanarak Dünya'nın şeklinin yuvarlak olduğuna karar verdim.



Ben Galilei. İcat ettiğim teleskop ile gök cisimlerini gözlemledim ve hesaplamalar yaparak Dünya'nın şeklinin yuvarlak olduğunu düşündüm.

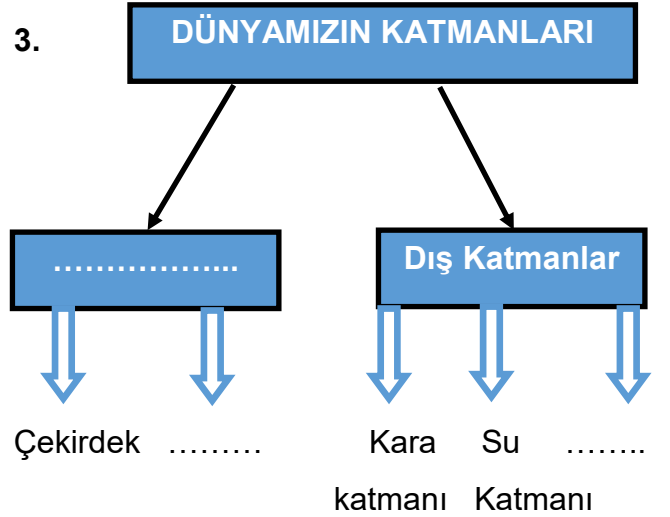
Verilenlere göre aşağıdakilerden hangisi söylenemez?

- A) İnsanlar çok eski zamanlardan bu yana Dünya'nın şekli ile ilgili tahminlerde bulunmuştur.
- B) Bazı bilim insanları fikirlerini ispatlamak için çalışmalar yapmıştır.
- C) Dünya'nın şeklinin yuvarlak olduğunu hiçbir bilim insanı ispatlayamamıştır.
- D) İnsanlar buldukları dönemin şartlarına uygun denemeler yapmışlardır.

2. Aşağıdakilerden hangisi Dünya'nın şeklinin yuvarlak olduğunu **kesin olarak** ispatlar?

- A) Güneşin gün içinde farklı konumlarda olması.
- B) Gece ve gündüzün oluşması.
- C) Bilim adamlarının Dünya'nın şeklinin yuvarlak olduğunu söylemeleri.
- D) Uzaydan çekilen fotoğraflar.

3.



Verilen kavram haritasında boş bırakılan yerlere sırasıyla hangi kavramlar gelmelidir?

- A) İç katmanlar - Manto - Hava katmanı
- B) Dış çekirdek- İç çekirdek - Hava katmanı
- C) Manto - İç katmanlar - Atmosfer
- D) Hava katmanı - Manto - İç katmanlar

FEN BİLİMLERİ TESTİ

4. Tabloda doğru ifadelerin karşısına D, yanlış ifadelerin karşısına Y yazılacaktır.

Dünyamızın şekli küreye benzer.	
Dünyamız katmanlardan oluşur.	
En kalın katman kara katmanıdır.	
Hava katmanı gözlemlenemez.	

Tabloyu doğru olarak dolduran bir öğrencinin tablosu aşağıdakilerden hangisi gibi olur?

- A)

Y
D
D
Y

 B)

D
D
Y
Y

 C)

D
Y
Y
Y

 D)

D
D
D
Y

5. Dünyamızın katmanları ile ilgili verilen bilgilerden hangisi kesin olarak ispatlanabilir?

- A) En küçük katman iç çekirdektir.
B) En soğuk katman hava küredir.
C) En kalın katman kara katmanıdır.
D) En ince katman dış çekirdektir.

6.

Varlıkların koku, tat, ses, yumuşaklık gibi özelliklerini algılamamızı sağlayan organlara denir.

İfadede boş bırakılan yere hangi kavram getirilmelidir?

- A) İşitme organı B) Duygu organı
C) Duyu organı D) Dokunma organı

7.



Esra: "Deniz kenarında gezerken gözlerimi kapayıp martıların sesini dinledim. Ayağımı okşayan tuzlu deniz suyunun sıcaklığıyla mutlu oldum. Rüzgarın getirdiği deniz kokusu beni rüyalara daldırdı."

Buna göre Esra hangi duyu organını kullanmamıştır?

- A) Kulak B) Burun
C) Dil D) Deri

8. Aşağıdakilerden hangisi bütün duyu organlarımızın sağlığı için gereklidir?


- A) Dengeli ve düzenli beslenmek.
B) Bilmediğimiz şeylerin tadına bakmamak.
C) Yüksek sesle müzik dinlememek.
D) Kuvvetli ışık ve sestten uzak durmak.

9. Aşağıdaki varlıklardan hangisi farklı bir hareket yapar?

- A) Duraktan kalkan otobüs.
B) Havaalanından kalkan uçak.
C) Yeşil ışık yanınca araba.
D) Duvara çarpan top.

FEN BİLİMLERİ TESTİ

10. Aşağıda bazı varlıklar ve yaptıkları hareket türleri verilmiştir. Hangi varlığın yaptığı hareket diğerlerinden farklıdır?



11.

- I. Durağa yaklaşan bir otobüs
- II. Kavşaktan dönen bir araba
- III. Salıncağa binen bir çocuk

Cümlelerde boş bırakılan yerlere sırasıyla hangi ifadeler getirilmelidir?

- A) yavaşlar - yön değiştirir - sallanır.
- B) hızlanır - yön değiştirir - döner.
- C) yavaşlar - döner - yön değiştirir.
- D) Hızlanır - yön değiştirir - sallanır.

12. Okul bahçesinde oyun oynayan Umut, Ege, İrmak ve Ebrar'ın yaptıkları hareketlerle ilgili bilinenler şunlardır:

- Ebrar, İrmak'ı yakalamaya çalışmaktadır.
- Umut ile Ege oyunlarında top kullanmaktadır.
- Umut elindeki top ile Ege'yi vurmaya çalışmaktadır.
- Ege ise vurulmamak için kaçmaktadır.

Verilen bilgilere göre aşağıdakilerden hangisi **kesin olarak** doğrudur?

- A) İrmak yakalanmamak için sürekli hızlanma hareketi yapar.
- B) Ebrar İrmak'a yaklaştığında düşmemek için yavaşlar.
- C) Tüm çocuklar oyun sırasında birden fazla hareket türünü yapabilirler.
- D) Umut topu Ege'ye attığında top yön değiştirir.

Fen bilimleri testi bitti, hayat bilgisi testine geçiniz.

HAYAT BİLGİSİ TESTİ

Bu testte 10 soru bulunmaktadır. Her sorunun yalnızca bir doğru cevabı vardır. Cevaplarınızı cevap kağıdına kodlamayı unutmayın.

1.



Görselden çıkarılabilecek en geniş anlam aşağıdakilerden hangisidir?

- A) Çocuklar oyun oynamayı severler.
- B) Oyuncaklarımızı paylaşmalıyız.
- C) Her çocuğun ilgili ve yeteneği farklı olabilir.
- D) Erkek çocuklar futbolu, kız çocuklar bekle oynamayı severler.

2.



Okul bahçesinde top oynuyorduk. Topu tuttuktan sonra hızla fırlattım. Fırlattığım top o sırada oradan geçen bir başka öğrencinin kafasına çarptı ve düşmesine neden oldu.

Buna göre aşağıdakilerden hangisi söylenebilir?

- A) Davranışlarımız sadece bizi değil başkalarını da etkiler.
- B) Top oynamak tehlikelidir.
- C) Top oynanan yerde koşmamalıyız.
- D) Koşarken önümüze bakmalıyız.

3.



Merhaba benim adım Elif. Çok iyi yüzebiliyorum. Okulun yüzme takımına seçildim. Ayrıca çok güzel bağlama ve gitar çalıyorum. Kitap okuma konusunda da oldukça başarılıyım.

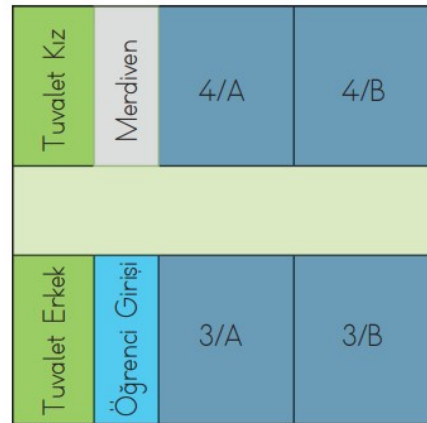
Elif konuşmasında aşağıdakilerden hangisinden bahsetmiştir?

- A) Alışkanlıklarından
- B) Güçlü yönlerinden
- C) Zayıf Yönlerinden
- D) Sevdiği oyunlardan

4. Aşağıdakilerden hangisi arkadaşlık kurarken karşımızdaki kişide olması gereken özelliklerden biri olamaz?

- A) Çalışkanlık
- B) Dürüstlük
- C) Güler yüzlülük
- D) Zenginlik

5.

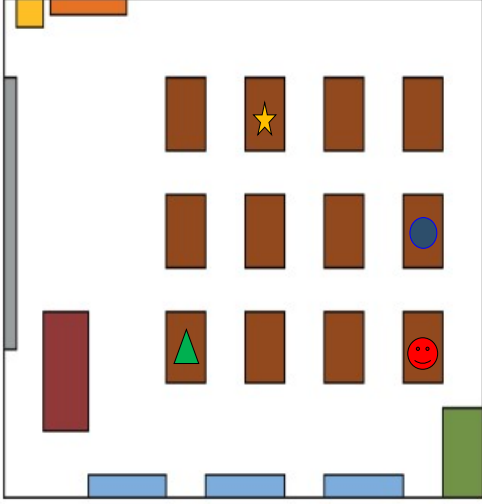


Yukarıdaki krokiye göre hangisi doğrudur?

- A) 4.Sınıflar merdivenden dönünce sağ taraftadır.
- B) Öğrenci girişinin solunda kız tuvaleti vardır.
- C) Erkek tuvaleti merdivenin yanındadır.
- D) Koridorun sonunda B şubeleri vardır.

HAYAT BİLGİSİ TESTİ

6.



ENSAR: Sınıfta pencere kenarında en arkının iki önünde oturuyorum.

Verilenlere göre Ensar hangi şekle daha yakın oturmaktadır?

- A) ★ B) ● C) ▲ D) 😊





7. aşağıdakilerden hangisi okulda düzenlenen sosyal etkinliklere katılmanın bize sağlayacağı faydalardan biri değildir?

- A) Daha çok oyun oynarız.
B) Daha fazla insanla tanışabiliriz.
C) Yardımlaşma ve işbirliği becerimiz gelişir.
D) Sorumluluk alma ve görevimizi yapma becerimiz artar.

8. Aşağıdaki davranışlardan hangisini yapan bir öğrencinin okul kaynaklarını daha bilinçli kullandığı söylenebilir?

- A) Okul tuvaletlerindeki pencereleri açık tutan Ahmet.
B) Okul koridorundaki panolarda bulunan resimleri koparan Mustafa.
C) Gereksiz ışıkları söndüren Fatma.
D) Koridorlarda oyun oynayan Emre.

9. Aşağıdaki görsellerden hangisi okul kaynaklarını bilinçli kullanmakla ilgili bir panoya asılamaz?

- A)  B) 
C)  D) 

10. 3/E sınıfı hayat bilgisi dersinde bir meslekler etkinliği yapıyor. Etkinlikte öğrenciler olmak istedikleri mesleği tanıtıyorlar.



Buna göre etkinliğin amacı ile ilgili aşağıdakilerden hangisi söylenebilir?

- A) En iyi meslek en çok para kazandıran meslektir.
B) Meslek seçerken ilgi ve yeteneklerimize göre seçmeliyiz.
C) Her öğrenci doktor ya da ressam olmalıdır.
D) Meslek seçimini ailemiz yapmalıdır.