



Akedaş İlkokulu
Abdurrahim KARAKOÇ Sınıfı

NİSAN ARA TATİL
ÇALIŞMA SAYFALARI



Dr. Cihangir UYGUN—Uzman Sınıf Öğretmeni

2024

AKEDAŞ İLKOKULU—ABDURRAHİM KARAKOÇ SINIFI TÜRKÇE DERSİ OKUMA / ANLAMA ETKİNLİK SAYFASI

Bir zamanlar bir ormanda yaşayan küçük bir sincap varmış. Bu sincap her sabah erkenden kalkar ve kendisine yiyecek aramış. Bir gün yine ormanda yiyecek aramaya çıkmış. Büyükçe bir çalının dibine dökülmüş palamutlar görmüş. Kendi kendine düşünmüş:

- Ben buradan daha önce de geçmişim. Bu palamutlar yoktu. Bu işte bir terslik var.

Meğer o palamutları oraya bir avcı koymuş. Küçük sincap dikkati sayesinde avcının tuzağından kurtulmuş. (C.U.)



☆ Aşağıdaki soruları okuduğumuz metne göre cevaplayalım.

1. Küçük sincap nerede yaşıyormuş?

.....

2. Küçük sincap sabahları ne yaparmış?

.....

.....

3. O sabah küçük sincap neden palamutlardan şüphelenmiş?

.....

.....

4. Küçük sincap avcının tuzağından nasıl kurtulmuş?

.....

5. Metne uygun bir başlık yazınız.

.....



AKEDAŞ İLKOKULU—ABDURRAHİM KARAKOÇ SINIFI

TÜRKÇE DERSİ HECE/KELİME BİLGİSİ

ETKİNLİK SAYFASI

☆ Aşağıdaki kelimeleri heceleyerek karşlarına yazalım.

Okul :

Pasta :

Portakal :

Renk :

Kitaplık :

Televizyon :

☆ Aşağıdaki kelimelerden doğru hecelenenlerin kutusunu işaretleyelim. Yanlış hecelenenleri doğru heceleyerek altlarına yazalım.

Ye-te-nek

Tel-ef-on

San-da-l-ye

Ü-tü

Öğ-ret-men

Zü-ra-fa

Pat-a-tes

A-ta-türk

Va-tan

Gel-e-cek



AKEDAŞ İLKOKULU—ABDURRAHİM KARAKOÇ SINIFI MATEMATİK DERSİ—PROBLEM ÇÖZME ETKİNLİK SAYFASI

1. Bir bakkal 18 kilogram meyvenin sabah 7 kilogramını, öğleden sonra da 4 kilogramını satarsa kaç kilogram meyvesi kalır?

4. Marketten 16 tane yumurta aldım. Yumurtaların 6 tanesiyle kek yaptım. 8 tanesini de kahvaltıda kullandık. Geriye kaç yumurta kalır?

2. Damla'nın 18 TL'si vardı. Damla 10 TL'sine kalem aldı. Babası damlaya 5 TL daha verdi. Damla'nın kaç TL'si oldu?

5. Mustafa 20 sayfalık kitabın ilk gün 6 sayfasını, ikinci gün 7 sayfasını okursa geriye kaç sayfası kalır?

3. Bir futbol maçında her takımda 11 oyuncu vardır. Her takımdan ikişer kişi oyundan atılırsa sahada toplam kaç oyuncu olur?

6. Elif'in boncuklarının sayısı 1 onluk 8 birlik kadardır. Elif boncuklarının 9 tanesini kardeşine verirse geriye kaç boncuğu kalır?

AKEDAŞ İLKOKULU—ABDURRAHİM KARAKOÇ SINIFI MATEMATİK DERSİ—KESİRLER ETKİNLİK SAYFASI

☆Aşağıdaki nesnelere bütünü gösterenlerin altındaki kutulara 😊, yarımı gösterenlerin kutularına ☹ çizelim.



1 Bütün içerisinde 2
tane yarım vardır.

2 yarım birleştğinde
1 bütün elde edilir.

☆Aşağıdaki boşlukları yukarıdaki bilgilere göre ve örnekten faydalanarak dolduralım.



2 bütün 4 yarım eder.



4 bütün yarım eder.



8 bütün yarım eder.



6 bütün yarım eder.



3 bütün yarım eder.



5 bütün yarım eder.



AKEDAŞ İLKOKULU—ABDURRAHİM KARAKOÇ SINIFI

MATEMATİK DERSİ—SAYILARLA İŞLEMLER

ETKİNLİK SAYFASI

☆ Aşağıdaki işlemleri okları takip ederek yapalım.

$$\begin{array}{r} 4 \\ + 5 \\ \hline \end{array}$$
$$\begin{array}{r} \square \\ + 4 \\ \hline \end{array}$$
$$\begin{array}{r} \square \\ + 6 \\ \hline \end{array}$$
$$\begin{array}{r} \square \\ - 5 \\ \hline \end{array}$$

$$\begin{array}{r} 20 \\ - 5 \\ \hline \end{array}$$
$$\begin{array}{r} \square \\ - 4 \\ \hline \end{array}$$
$$\begin{array}{r} \square \\ + 6 \\ \hline \end{array}$$
$$\begin{array}{r} \square \\ - 9 \\ \hline \end{array}$$

☆ Aşağıdaki işlemleri yapalım.

$$\begin{array}{r} 9 \\ + 3 \\ \hline \end{array}$$
$$\begin{array}{r} 7 \\ + 4 \\ \hline \end{array}$$
$$\begin{array}{r} 10 \\ + 3 \\ \hline \end{array}$$
$$\begin{array}{r} 11 \\ + 2 \\ \hline \end{array}$$

$$\begin{array}{r} 16 \\ - 9 \\ \hline \end{array}$$
$$\begin{array}{r} 15 \\ - 7 \\ \hline \end{array}$$
$$\begin{array}{r} 17 \\ - 10 \\ \hline \end{array}$$
$$\begin{array}{r} 20 \\ - 9 \\ \hline \end{array}$$



AKEDAŞ İLKOKULU—ABDURRAHİM KARAKOÇ SINIFI

MATEMATİK DERSİ—PARALARIMIZ

ETKİNLİK SAYFASI

☆Aşağıdaki ürünleri almak için verilen paralardan kaçar tane kullanılacağını karşılarına yazalım.

☆Aşağıdaki ifadelerden doğru olanların başına D, yanlış olanların başına Y harfi yazalım. Cevaplarımızı yazarken yukarıdaki etkinlikten faydalanalım.

- En pahalı ürün okul çantasıdır.
- En ucuz ürün çilekli pastadır.
- Muz, çilekli pastadan daha pahalıdır.
- Oyuncak ayı, çantadan daha ucuzdur.
- Kalemlik alırken madeni para kullanmamıza gerek yoktur.








AKEDAŞ İLKOKULU—ABDURRAHİM KARAKOÇ SINIFI HAYAT BİLGİSİ DERSİ—GÜVENLİ HAYAT ÜNİTESİ ETKİNLİK SAYFASI
















☆ Aşağıda verilen ifadelerden doğru olanların önündeki ☺, yanlış olanların önündeki ☹ sembolünü boyayalım.

☺	☹	Okula giderken ya da okuldan dönerken tanımadığımız kişilerle konuşmamalı, isteklerini kabul etmemeliyiz.
☺	☹	Telefon, tablet ve televizyonu ailemiz izin verirse sınırsız şekilde kullanabiliriz.
☺	☹	Okul merdivenlerinde ve lavabolarda koşmak tehlikeli olabilir.
☺	☹	Okul bahçesinde bir kaza olduğunda nöbetçi öğretmene haber vermeliyiz.
☺	☹	Acil durumlarda 1-2-2 numaralı telefonu aramalıyız.
☺	☹	Boş araziler ve inşaat alanları güvenli oyun alanlarıdır.
☺	☹	Karşıdan karşıya geçerken önce sola, sonra sağa, sonra tekrar sola bakıp yol boşa geçmeliyiz.
☺	☹	Yaya geçitleri, trafik ışıkları, alt ve üst geçitler güvenli geçiş alanlarıdır.
☺	☹	Evdeki elektrikli cihazları boyumuz yetiyorsa kendi başımıza kullanabiliriz.
☺	☹	Ellerimiz ıslakken elektrik prizlerinden ve elektrikli aletlerden uzak durmalıyız.
☺	☹	Genel ağ (internet) üzerinden tanımadığımız kişilerle iletişim kurarak yeni insanlarla tanışmamız faydalıdır.
☺	☹	Genel ağda güvenliğinden emin olmadığımız sayfalara ve oyunlara girmemeliyiz.

AKEDAŞ İLKOKULU—ABDURRAHİM KARAKOÇ SINIFI RESFEBE ETKİNLİK SAYFASI

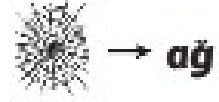

Harfleri, görsellerdeki varlıkların adlarıyla birlikte okuyarak örnekteki gibi yazınız.













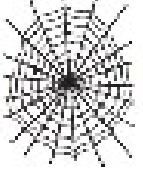
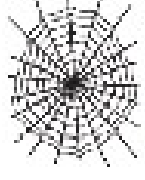
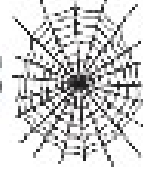
 → arı  → at  → ev  → ay  → limon

1  s	2  b ş	3  t m
s a r ı		
4  k ı	5  i k	6  k ı
7  s g i	8  l i	9  l 
10  s g ı	11  h 	12   a

AKEDAŞ İLKOKULU—ABDURRAHİM KARAKOÇ SINIFI RESFEBE ETKİNLİK SAYFASI

Harfleri, görsellerdeki varlıkların adlarıyla birlikte okuyarak örnekteki gibi yazınız.



1 ç  me	2 g  li	3  mir
ç i z m e		
4 f  can	5   çı	6   li
7  bise	8 t  s 	9 k 
10 y  mur	11  ız	12 s  ir



AKEDAŞ İLKOKULU—ABDURRAHİM KARAKOÇ SINIFI BULMACA ETKİNLİK SAYFASI

☆ Aşağıdaki kelimeleri bulmacada yatay ya da dikey olarak bularak işaretleyelim.

A	F	I	K	A	P	L	U	M	B	A	Ğ	A	A	Ğ
Ş	K	Ö	P	E	K	P	G	K	D	K	Ö	Ü	S	H
U	J	I		H	E	Ğ	H	L	E	I	Ç	İ	K	T
Ç	H	O	M	J	R	F	İ	L	V	U	A	Ç	E	P
G	G	P	A	K	T	Ü	J	Ş	E	J	R	Ş	D	A
S	F	Ğ	Y	L	L	A	M	A	M	M	I	E	İ	P
E	D	Ü	M	Ş	Y	A	K	İ	Ö	N	L	A	L	A
R	S	İ	U	İ	U	S	A	Z	Ç	H	I	S	D	Ğ
Ç	D	İ	N	O	Z	O	R	C	E	T	O	I	J	A
E	F	R		Ç	I	D	I	V	K	A	P	L	A	N
E	B	T	A	V	Ş	A	N	B	S	R	Ş	T	Y	T
T	Y	E	N	G	E	Ç	C	N	D	F	İ	L	G	S
O	O	Z		Ö	O	F	A	S	L	A	N	A	Y	T
P	Ş	B	A	L	İ	N	A		C	V	K	P	S	S
Ü	İ	C	V	B	N	M	L	E	Y	L	E	K	T	A

* MAYMUN

* KAPLAN

* DİNOZOR

* FİL

* KÖPEK

* KEDİ

* PAPAĞAN

* DEVE

* ASLAN

* BALİNA

* KARINCA

* ARI

* KAPLUMBAĞA

* LAMA

* SERÇE

* YENGEÇ

* LEYLEK

* TAVŞAN



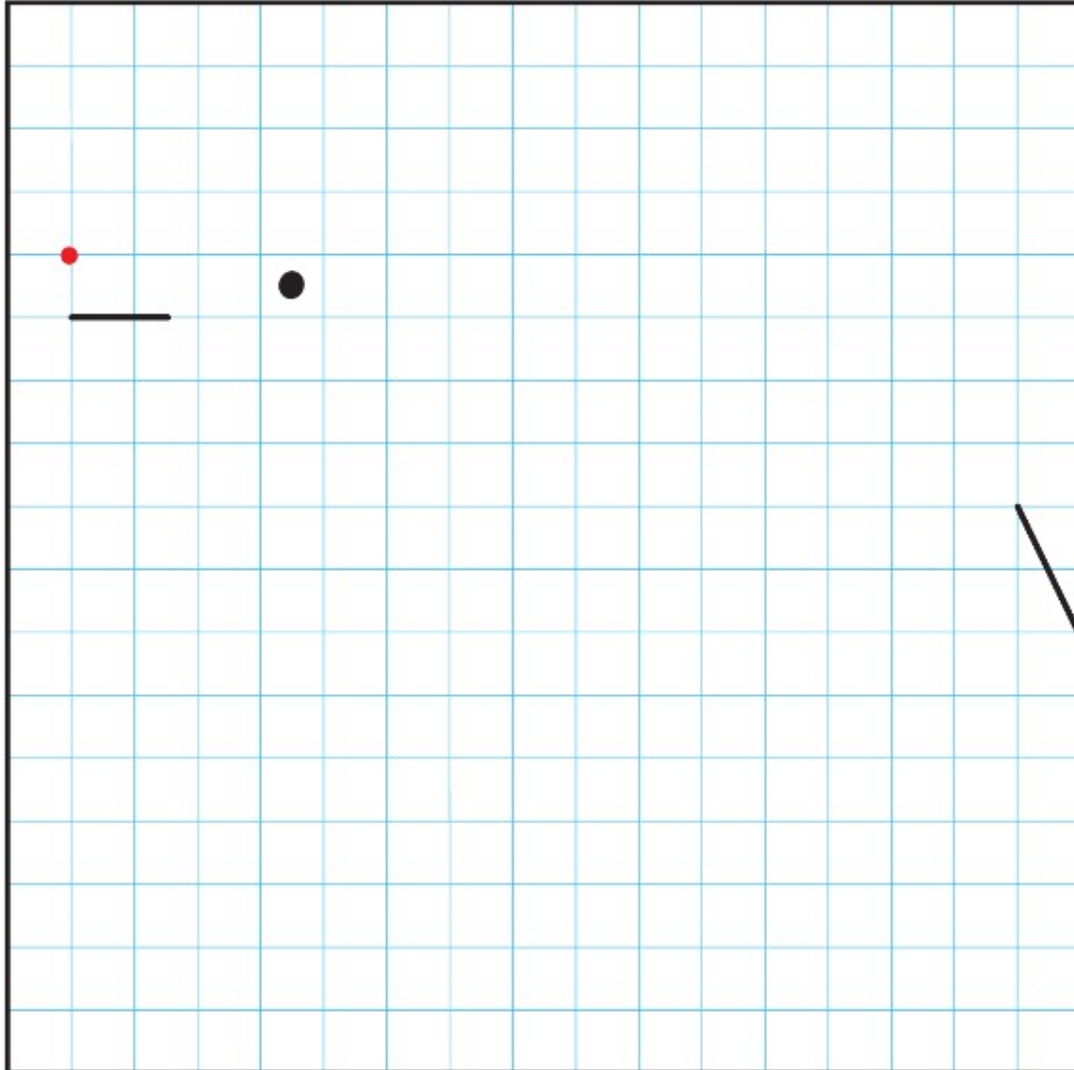
AKEDAŞ İLKOKULU—ABDURRAHİM KARAKOÇ SINIFI KODLAMA ETKİNLİĞİ



EĞLENCİLİ KODLAMA ETKİNLİKLERİ

6

(●) işaretli kısımdan başlayarak yönergeleri takip ediniz. Gizli şekli bulup boyayınız.





AKEDAŞ İLKOKULU—ABDURRAHİM KARAKOÇ SINIFI GÖRSEL OKUMA ETKİNLİĞİ

☆ Aşağıdaki görsellerde anlatılmak istenenleri yanlarına kısaca yazalım.





